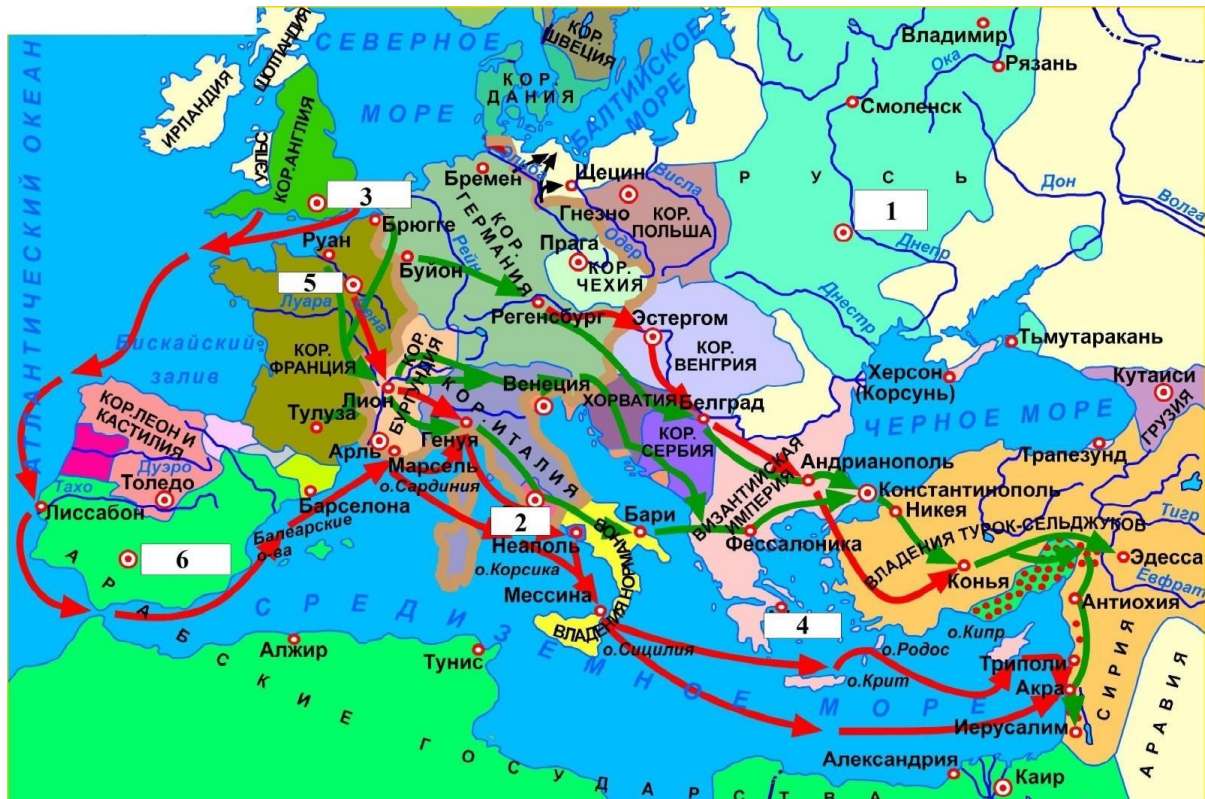


Задание 1.

1.1 Вам представлена схема, описывающая серию военных походов средневековых европейских государств. Внимательно ознакомьтесь с ней и выберите верные утверждения. Обратите внимание, что цифрами обозначены названия городов, отмеченных на карте красными точками.



1. На данной схеме представлена война гвельфов и гибеллинов
2. В ходе одного из походов, не отраженных на представленной карте, был взят город, названный в честь первого римского императора-христианина
3. Под цифрой 2 указано название города, в котором по легенде была произнесена фраза “И ты, Брут!”
4. На карте указано государство, правитель которого в течение более 20 лет претендовал на русский престол
5. На карте не указаны крупные города-государства, создавшие в Средние века морские торговые республики
6. На карте указан город, в котором правил сын князя, основавшего в 1147 город на Руси

7. В период времени, отраженный на карте, Русь находилась в состоянии раздробленности

8. На карте указано несколько городов, за которые в период Великой Отечественной войны шли бои

Ответ: 2 3 4 6 7 8


1.2 Выберите из представленных изображений то, которое было написано по мотивам событий, показанных на карте стрелками.

А	Б
	
В	Г
	

Ответ: Б

1.3 Вам представлены изображения архитектурных памятников, располагающихся на территории современных государств. Соотнесите

изображения памятников с номерами городов, являющихся столицами этих государств.



Ответ:

А 5

Б 3

В 2

Г 4

1.4 Выберите из представленных терминов те, которые относятся к периоду истории России, события которого происходили одновременно с событиями, показанными на схеме.

1. Холопы

2. Боярская дума

3. Стрелецкое войско

4. Удельная раздробленность

5. Ярлык

6. Дружина

Ответ: 1 4 6

1.5 Выберите текстовый фрагмент, в котором упоминается период истории России, в который появился термин, указанный под цифрой 5.

1. В лето 7063 году месяца июля в 29 день на память святого мученика Калининика царь и великий князь Иван Васильевич всеа России своими русскими воеводами взял Смоленск-град. А стоял под градом три годы, занеже крепок град деревяной бысть и острог. Не домысляше, како – приступом или подкопы – взят. И бысть Смоленска-града из большой пушки стреляли, и прииде пушечное ядро и сорвало маковицу от церкви Преображения Спасова, и поставив маковицу зле шатер царев, да едва в шатре царя маковицей не убило. Царь же разгневался и заповеда в той церкви не служить до скончания.

2. И повелел Олег своим воинам сделать колеса и поставить на колеса корабли. И когда подул попутный ветер, подняли они в поле паруса и пошли к городу. Греки же, увидев это, испугались и сказали, послав к Олегу: "Не губи города, дадим тебе дань, какую захочешь". И остановил Олег воинов, и вынесли ему пищу и вино, но не принял его, так как было оно отравлено. И испугались греки, и сказали: "Это не Олег, но святой Дмитрий, посланный на нас Богом". И приказал Олег дать дани на 2000 кораблей: по 12 гривен на человека, а было в каждом корабле по 40 мужей. И согласились на это греки, и стали греки просить мира, чтобы не воевал Греческой земли.

3. Лагерь присягает молодому царю. Басманов приказал, чтобы все в лагере — немцы, московиты, поляки, шведы, татары, казаки и пр. — принесли положенные клятвы и присягнули молодому царю. Басманов нарушает клятву. Но эту клятву соблюдали ровно столько времени, сколько голодная собака соблюдает пост, ибо через 3 недели упомянутый Басманов сам нарушил клятву, отпал от молодого царя вместе со многими другими воеводами и многими тысячами московитов, почти со всем лагерем, и все пошли в Путивль к Димитрию, за исключением немцев. Те в суматохе отделились от них с несколькими тысячами московитов и вернулись в Москву к своему государю, молодому царю, которому очень по душе пришлось их постоянство, и он щедро пожаловал и одарил их, да еще приказал объявить их всенародно самыми верными и постоянными.

4. Когда же приблизились немцы, то проведали о них стражи. Князь же Александр приготовился к бою, и пошли они друг против друга, и покрылось озеро Чудское множеством тех и других воинов. Отец же Александра Ярослав прислал ему на помощь младшего брата Андрея с большою дружиною. И у князя Александра тоже было много храбрых воинов, как в древности у Давида-царя, сильных и крепких. Так и мужи Александра исполнились духа ратного, ведь были сердца их как сердца львов, и воскликнули: «О княже наш славный! Ныне пришло нам время положить головы свои за тебя».

Ответ: 4

Задание 2. Внимательно прочитайте текстовый фрагмент и выполните задания.

Князь же великий < 1 >, взяв с собою брата своего, князя Владимира Андреевича, и всех князей русских, поехал к Живоначальной Троице на поклон к отцу своему духовному, преподобному старцу Сергию, благословение получить от святой той обители. И упросил его преподобный игумен Сергий, чтобы прослушал он святую литургию, потому что был тогда день воскресный и чтилась память святых мучеников Флора и Лавра. По окончании же литургии просил святой Сергий со всею братьею великого князя, чтобы вкусил он хлеба в доме Живоначальной Троицы, в обители его. Великому же князю было тяжело, ибо пришли к нему вестники, что уже приближаются поганые татары, и просил он преподобного, чтобы его отпустил.

2.1 Выберите из представленных дат ту, к которой относятся события, описанные во фрагменте.

1. 1380





2. 1382

3. 1445

4. 1480

Ответ: 1

2.2 Выберите из представленных изображений то, которое связано с событиями, описанными в текстовом фрагменте.

А	Б
	
В	Г
	

Ответ: В

2.3

Выберите из представленных названий литературных произведений то, что было написано о деятеле, обозначенном в тексте цифрой 1.

1. Сказание о Мамаевом побоище
2. Память и похвала князю русскому Владимиру
3. Моление Даниила-заточника
4. Житие Сергия Радонежского

Ответ: 1

2.4 Выберите из представленных событий те, которые происходили спустя три века после событий, показанных на изображении Г.

1. Поход Едигея на Москву
2. Заповедные лета

3. Битва при Молодях
4. Восстание Болотникова
5. Федорчукова рать
6. Ливонская война

Ответ: 2 3 6

Задание 3. Ознакомьтесь с представленным текстом и выберите истинные суждения среди предложенных ниже.

40. Тоже: Великий Новгород — удивительно большой город; он расположен на большой равнине, окруженной большими лесами, и находится в низкой местности среди вод и болот (*parfont des eaues et des places maresqueueses*). Посреди упомянутого города течет большая река по имени Волхов (*Wolosco*). Город обнесен плохими стенами, сделанными из плетня и земли (*de cloyes et de terre*), тогда как башни каменны. Этот город независим и имеет общинное правление (*ville franche et seignourie de commune*). Здесь есть епископ, который представляет как бы их начальника. И содержат они, равно как и все прочие русские в Руси, которая очень велика, христианскую религию по своему обряду, такому же как и у греков. Они имеют замок, расположенный на берегу упомянутой реки, и в нем соборная церковь (*maistre esglise*) св. Софии, которую они почитают, и там живет их упомянутый епископ.

41. Тоже: Внутри упомянутого города живет много больших сеньоров, которых они называют боярами (*Bayares*), и там есть такие горожане, которые владеют землей в 200 лье длины, богаты и могущественны удивительно. И не имеют русские великой Руси других властителей, кроме этих бояр, выбираемых по очереди так, как хочет община. Монета их состоит из кусков (*keucelles*) серебра, весящих около 6 унций — без отиска, потому что вовсе не куют золотой монеты, а мелкая их монета состоит из мордок белок и кун (*de testes de gris et de martres*). Они имеют в своем городе рынок, на котором продают и покупают себе женщин, имея на это право, (но мы, истинные христиане, (*francs cristiens*) не осмелились бы сделать этого никогда в жизни) и покупают своих женщин одну вместо другой за кусок или за два серебра как сойдутся — так, чтобы один дал достаточно другому. Они имеют двух начальников: тысяцкого и посадника, которые и

управляют сказанным городом. Эти правители возобновляются из года в год. И там я был у упомянутых епископа и сеньоров.

- 1) Автор текста является европейцем
- 2) Автор текста считает Великий Новгород самым богатым из увиденных им городом
- 3) В тексте называется название денежной единицы, бывшей основой торговли Руси
- 4) Автор текста подчёркивает отличие вероисповедания новгородцев от его собственного
- 5) В тексте описывается политическое устройство Новгородской земли
- 6) Автор текста является католиком
- 7) Автор текста относится с уважением к обычаям новгородцев
- 8) В тексте упоминается христианский святой, в честь которого в Средние века был построен главный собор во Владимире
- 9) Автор текста использует меры величин, характерные для Руси того времени
- 10) Автор текста лично посещал Новгород

Ответ: 1 4 5 6 10