


Задание 1. Природные комплексы мира.



Закон Х в географии заключается в закономерном изменении природных условий и ландшафтов от экватора к полюсам. Это проявляется в последовательной смене природных зон и географических поясов.

Укажите название закона и фамилию русского ученого, который сформулировал его в 1898 году.

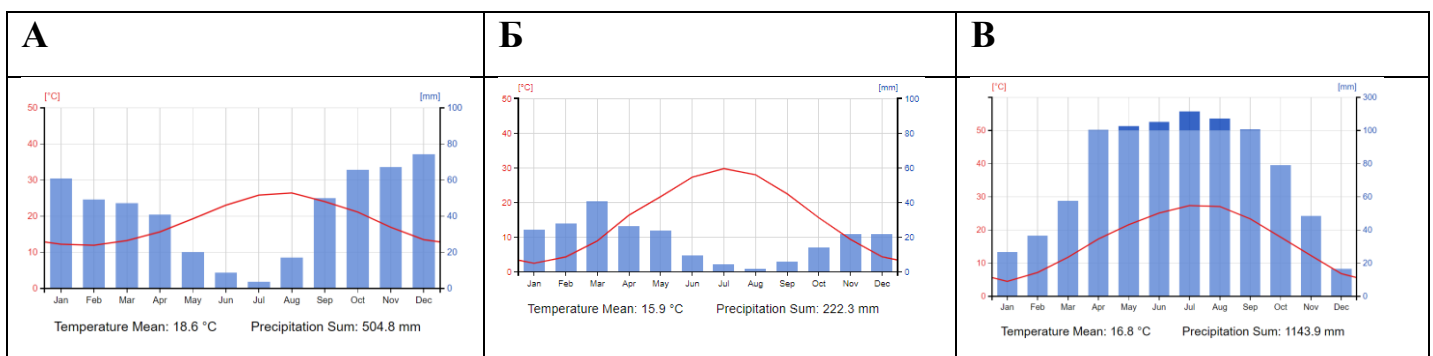
В таблице представлены показатели некоторых природных зон. Укажите, название природных зон и зональный тип почв. Расставьте названия показателей в соответствующие колонки, а также единицы их измерения.

Возможные варианты природных зон: арктические пустыни, тундра, тайга, смешанные леса, широколиственные леса, степи, пустыни и полупустыни субтропического пояса, пустыни и полупустыни умеренного пояса, субтропические жестколистные вечнозеленые леса и кустарники, переменновлажные леса субтропического пояса, тропические пустыни и полупустыни, саванны и редколесья, переменновлажные леса тропического и субэкваториального пояса, влажные экваториальные леса.

Возможные варианты показателей: 1) радиационный индекс сухости; 2) коэффициент увлажнения; 3) сумма активных температур; 4) продолжительность вегетационного периода; 5) радиационный баланс; 6) биопродуктивность; 7) биомасса.

Природные зоны можно разделить на лесные и безлесные. Объяснить два основных климатических условия (используя показатели таблицы). Необходимые для формирования лесных природных зон.

В данной таблице отсутствуют природные зоны, представленные в одном из климатических поясов, климатические диаграммы типов климата которого представлены ниже. Определите данные типы климата, типичные для них природные зоны, распределите примеры сельскохозяйственных культур, которые в большей культивируются в данных зонах: оливки, чайный куст, рис, хлопчатник, бахчевые культуры, цитрусовые.



Сезоны выпадения осадков в типах климата А и В существенно отличаются, объясните причины формирования сезонности для данных типов климата.

Природная зона типа климата Б увеличивает свою площадь, укажите две основные причины данного процесса.

Задание 2. Государства Юго-Восточной Азии.

Более половины территории Юго-Восточной Азии занимает полуостров Индокитай и горные районы к северу от него, вплоть до Тибетского нагорья, и чуть меньше половины приходится на острова, которые образуют природный «мост» между Евразией и Австралией. Высокие горы с вечными снегами, которые прорезают ущелья рек, сменяются низменными аллювиальными равнинами с огромными дельтами, а десятки крупных островов окружают тысячи маленьких. Нигде больше на Земле нет такого количества вулканов, а природные ландшафты поражают своим разнообразием и пышностью. И наверное, ни в одном из регионов мира нет такого сложного этнорелигиозного состава населения.

Независимых государств здесь всего одиннадцать, но среди них **шесть** входят в число **50 крупнейших по численности населения в мире**. Ни один другой регион мира таким количеством государств похвастаться не может.

В **таблице №1** представлены некоторые данные об истории и населении этих **шести государств**.

Определите названия шести государств, восстановите пропущенные позиции в таблице. Для каждого из государств подберите фотографию одного из объектов культурного наследия ЮНЕСКО из приложения №1. Дайте название каждому объекту.

Таблица №1

Государство	Преобладающая языковая семья	Преобладающая религия	Бывшая метрополия	Численность населения крупнейшей агломерации
А		Ислам	Нидерланды	около 36 млн. чел.
В	Австронезийская		Испания	25 млн. чел.
С	Паратайская		–	20 млн. чел.
Д		Ислам	Великобритания	около 10 млн. чел.
Е	Сино-Тибетская	Буддизм		около 7 млн. чел.
Ф	Австроазиатская	–		около 16 млн. чел.

Государство А является одним из самых многонациональных в мире. Точное количество этносов оценить сложно, в стране насчитывается более 300 языков и свыше 1000 диалектов, но более 96% его населения принадлежит к народам лишь **одной языковой семьи**. На протяжении нескольких тысяч лет представители этой языковой семьи расселились из своего ядра, **государства А**, в разные стороны, порой на весьма значительные расстояния. И хотя в Юго-Восточной Азии по-прежнему проживает большая часть представителей этой языковой семьи, в других регионах земного шара их число также велико.

Напишите название языковой семьи, приведите три региона мира, кроме Юго-Восточной Азии, куда расселились народы этой семьи, для каждого из регионов напишите по одному народу и одному государству, где они проживают.

Преобладающей религией в **государстве Б** является **одна из мировых религий**. Данная мировая религия по числу последователей занимает первое место в мире, но её представительство в Азии довольно скромно, а кроме **государства Б** её последователи численно преобладают только ещё в одной из стран региона.

Напишите название мировой религии и причину, по которой только в двух государствах Юго-Восточной Азии данная мировая религия преобладает среди верующих.

Государство С примечательно тем, что единственное среди всех стран региона никогда не было колонией какой-либо из европейских держав. В нём проживает примерно 10 миллионов представителей **народа**, чья **диаспора** является крупнейшей по численности в мире. Диаспора этого народа численно значительна в любой стране региона, но в **государстве С** она составляет примерно 15% всего населения.

Напишите название народа и причины, по которой во всей Юго-Восточной Азии сложилась такая его большая диаспора.

Именно **Государство D** может претендовать на статус главного «мостика» в регионе. Сложность исторических, этнических и политических процессов привела эту страну после обретения независимости к очень сложному политико-административному устройству.

Какие особенности географического положения позволяют считать государство D главным «мостиком» Юго-Восточной Азии?

Приведите как можно больше примеров из его политико-административного устройства, которые доказывают всю сложность исторических, этнических и политических процессов.

В **государствах E и F** столичная агломерация не является крупнейшей по численности населения. Причины подобной ситуации различны.

Кратко объясните эти причины и для государства E, и для государства F. Напишите ещё две страны Юго-Восточной Азии, в которых столичная агломерация могла бы быть не крупнейшей по численности населения и причины, почему этого не произошло.

Почему для государства F очень сложно определить преобладающую религию? Напишите две особенности государства, которые не позволяют это сделать.

Нигде в мире нет такой пестроты этнического и религиозного состава, нежели в Юго-Восточной Азии.

Если Вы согласны с этими утверждениями, то **приведите ещё несколько доводов в их пользу, из тех, которые ещё не рассмотрены в тексте задачи.**

Если же Вы считаете, что какой-то другой регион мира обладает большим этническим или религиозным разнообразием, то **напишите название этого региона мира и приведите доводы в пользу своей точки зрения.**

В данном случае, как нам кажется, можно подобрать аргументы и за Юго-Восточную Азию, и за некоторые другие регионы мира.

Приложение №1



Рисунок №1



Рисунок №2




Рисунок №3



Рисунок №4



Рисунок №5




Рисунок №6

Задание 3. Конфедерация Мафилиндо.

На **рисунке №1** изображена одна из вариаций флага Мафилиндо, конфедерации трёх стран Юго-Восточной Азии, создание которой активно обсуждалось в 1963 году. По ряду политических причин власти этих трёх стран отказались от создания конфедерации, однако именно они уже в 1967 году стали инициаторами создания межправительственной организации, которая на сегодняшний момент объединяет все 11 стран Юго-Восточной Азии и чей флаг изображён на **рисунке №2**.




Рисунок №1



Рисунок №2

В бланке ответа напишите, какие три государства планировали войти в Мафилиндо, напишите название межправительственной организации, чей флаг изображён на рисунке №2.

Де-факто в состав Мафилиндо вошло бы ещё одно современное государство Юго-Восточной Азии, **государство А**. Его площадь составляет менее 1 тысячи км², но многие современные политологи и географы предполагают, что именно в нём размещалась бы столица будущей конфедерации.

Напишите название государства А. Почему формально данное государство не было представлено в Мафилиндо? Почему именно в нём могла бы располагаться столица конфедерации? Со столицей какой современной конфедерации её можно было бы сопоставить? Приведите несколько аргументов в пользу этой гипотезы.

Государство А обладает множеством уникальных черт, отличающим его от большинства или даже от всех государств мира.

Напишите до пяти таких уникальных черт государства А.

Вероятно, в конфедерацию Мафилиндо могло бы войти и **государство Б**. Его территория также небольшая, немногим более 5 тысяч км², а население меньше полумиллиона человек. Подобных ему образований в середине XX века существовало несколько. Некоторые, например в Восточной Африке, уже прекратили своё существование, другие, прежде всего в Юго-Западной Азии, являются суверенными государствами, как и **государство Б**.

Напишите название государства Б. Почему данное государство могло бы войти в состав Мафилиндо? Напишите два его аналога в других регионах мира и объясните свой выбор.

Возможно, в конфедерацию Мафилиндо было бы включено и **государство В**, самый молодое в Юго-Восточной Азии. Это ещё одно небольшое государство региона с территорией чуть меньше 15 тысяч км² и населением немногим больше 1 миллиона жителей.

Напишите название государства В. Приведите один аргумент в пользу вхождения государства В в конфедерацию и один аргумент, исключающий его вхождение.

Государство В последним, лишь полгода назад, 26 октября 2025 года, стало членом организации, чей флаг изображён на **рисунке №2**. До этого, более 20 лет, оно состояло в организации в статусе особого наблюдателя. На сегодня в организации осталось только одно государство в статусе особого наблюдателя.

Напишите это государство. Какие причины мешают ему получить статус полного члена в организации.

Сегодня слово «Мафилиндо» иногда используется тремя государствами и их чиновниками в названиях фестивалей, спортивных проектов, киберспортивных состязаний, жителями при составлении шутливых картинок и мемов, как на **рисунке №3**.



Рисунок № 3

При этом сегодня на просторах интернета можно найти довольно много статей и роликов, где задают интересные вопросы: «Что было бы, если бы конфедерация Мафилиндо образовалась в 1963 году? Какой была бы Мафилиндо в 2026 году?».

Предположите, какой была бы экономика Мафилиндо в 2026 году? Какое место она бы занимала в мировой экономике? Каковы были бы её отрасли международной специализации?

И напишите ответ на самый главный вопрос: «Развивалась бы экономика Мафилиндо более быстрыми темпами, по сравнению с реальной ситуацией, в которой крупнейшие государства Юго-Восточной Азии развиваются по-отдельности?»

В данном случае, очевидно, что Ваш балл будет зависеть от Вашего умения приводить верные факты и стройно аргументировать свою точку зрения.